



Prova de Equivalência à Frequência

Decreto-Lei n.º 55/2018, de 6 de julho

Prova Escrita de História e Geografia de Portugal

2.º Ciclo do Ensino Básico

Prova 05/1ª Fase

13 Páginas

Duração da Prova: 90 minutos

23/06/2022 às 09h30

2022

Rubricas dos Professores Vigilantes

NOME COMPLETO: _____

Cartão de Cidadão:

Validade: __/__/__

Número interno:

ASSINATURA DO ALUNO: _____

Não escreva o seu nome ou qualquer outro elemento que o identifique em mais nenhum local da prova, sob pena de esta ser anulada.

A PREENCHER PELA ESCOLA

N.º CONVENCIONAL

N.º CONVENCIONAL

2.º Ciclo do Ensino Básico

Prova Escrita de História e Geografia de Portugal Prova 05/1ª Fase

A PREENCHER PELO PROFESSOR CLASSIFICADOR

Classificação em percentagem (_____ por cento)

Correspondente ao nível (_____)

Data: __/__/__

Assinatura do Classificador _____

Observações: _____

A PREENCHER PELO AGRUPAMENTO

Número confidencial da Escola

Utilize apenas caneta ou esferográfica de tinta indelével azul ou preta.

Não é permitido o uso de corretor. Sempre que precisar de alterar ou de anular uma resposta, risque, de forma clara, o que pretende que fique sem efeito.

As respostas ilegíveis ou que não possam ser claramente identificadas são classificadas com zero pontos.

Para cada item, apresente apenas uma resposta. Se apresentar mais do que uma resposta a um mesmo item, só a primeira será classificada.






É proibida a recolha da(s) folha(s) de rascunho para classificação.

As cotações dos itens encontram-se no final do enunciado da prova.

GRUPO I - A PENÍNSULA IBÉRICA – LOCALIZAÇÃO E QUADRO NATURAL

1. Para melhor se compreender e estudar a superfície terrestre, os geógrafos criaram diferentes formas de representação da Terra.

1.1. **Complete**, com base nas imagens representadas, a informação em falta no quadro, **identificando** o elemento representado ou fazendo a sua descrição.

<p>1.</p> 	<p>É a forma mais correta e real de representação do planeta Terra.</p> <p>A - _____</p>
<p>2.</p> 	<p>Planisfério</p> <p>_____</p> <p>_____</p> <p>_____</p>
<p>3.</p> 	<p>É uma imagem obtida a partir do Espaço.</p> <p>C - _____</p>
<p>4.</p> 	<p>É uma fotografia obtida através de uma câmara aérea.</p> <p>D - _____</p>
<p>5.</p> 	<p>É uma representação de uma área mais reduzida da superfície terrestre.</p> <p>E - _____</p>

2. Observe as imagens 2 e 5, no quadro acima.

2.1. Localize geograficamente o nosso país, referindo a Península e o continente a que pertence.

3. Observe o documento 2.

DOC.2

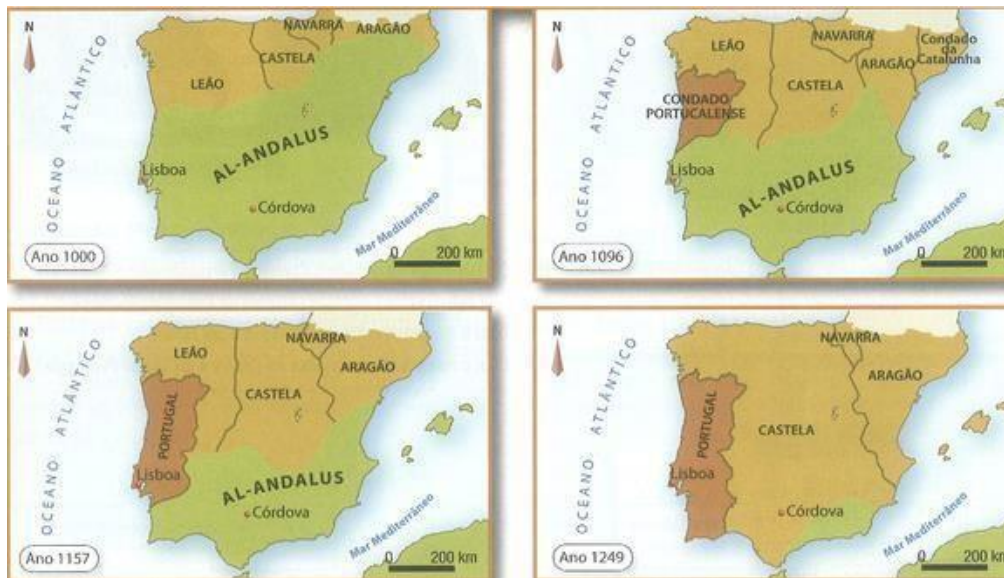


3.1. Distinga altitude negativa e altitude positiva,

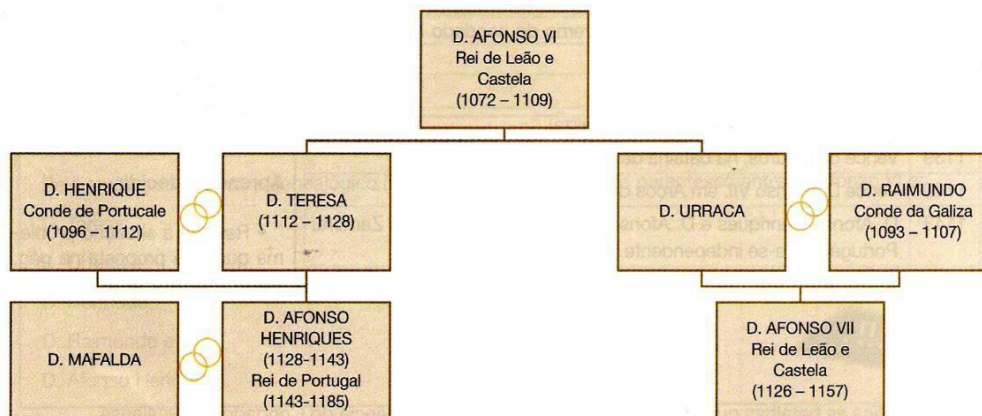
4. Identifique as formas de relevo que conhece, caracterizando cada uma delas.

Grupo II - PORTUGAL, UM NOVO REINO

Observe atentamente os mapas e a árvore genealógica:



Mapas



Árvore genealógica

1. Partindo da análise da árvore genealógica, indique:

a) – o nome do avô de D. Afonso VII de Castela.

b) – o nome da mulher de D. Afonso Henriques.

2. D. Henrique e D. Raimundo são cruzados que vêm à Península Ibérica a pedido do rei de Leão. Relacione a sua vinda com a Reconquista Cristã.

3. Como recompensa da ajuda prestada ao rei de Leão, identifique o território concedido a D. Henrique, por D. Afonso VI, rei de Leão.

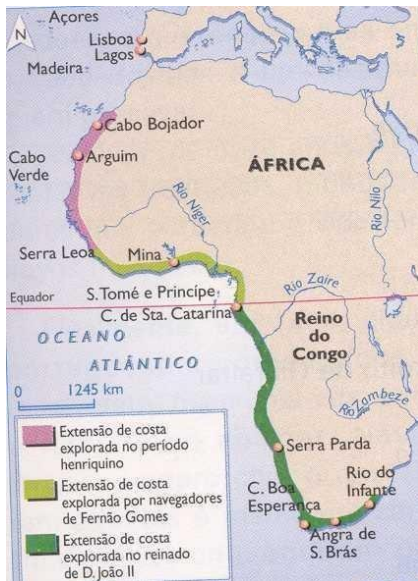
4. Tendo em conta a recompensa dada a D. Henrique, indique duas obrigações deste, para com o rei de Leão.

Grupo III -AS DESCOBERTAS NO SÉCULO XV

No início do século XV, feita a paz com Castela e conseguida a estabilidade política, Portugal parte para uma nova aventura – Os Descobrimentos.

Observe com atenção o mapa e a figura:

Etapas dos descobrimentos portugueses na costa ocidental africana.



1. Indique duas razões que terão levado os portugueses a esta aventura.

2. Relativamente ao mapa, refira:

a)- duas descobertas feitas por navegadores de Fernão Gomes.

b)- duas descobertas no tempo de D. João II.

3. Ultrapassado o Cabo da Boa Esperança, que objetivo poderia finalmente D. João II atingir?

4. A navegação do Oceano Atlântico revelou grandes dificuldades.


a)- indique a forma como se orientavam os marinheiros no alto mar.

b)- quando os ventos eram contrários, qual a técnica de navegação utilizada pelos marinheiros portugueses?

Grupo IV - Da Revolução Republicana à Ditadura Militar

1. **Observe** o documento abaixo.

DOC.6 No dia 1 de fevereiro de 1908 ocorreu, em Portugal, um grave incidente político.



1.1. Que nome se dá ao assassinato de um rei?

1.2. Quem morreu neste atentado à família real?

1.3. Qual o nome do rei que substituiu D. Carlos no trono português?

2. **Sublinhe** as alíneas que completam de forma correta cada uma das frases abaixo.

A proclamação da República, por José Relvas.



A. A revolução republicana foi apoiada...

- a) pelos republicanos, pela nobreza e pelo clero.
- b) pelos republicanos, pelos Ingleses e pelos políticos monárquicos.
- c) pelos republicanos, pelos militares e pelo povo.

B. A revolução republicana teve lugar no dia...

- a) 5 de outubro de 1910.
- b) 25 de abril de 1910.
- c) 1 de novembro de 1908.

C. A 1.ª República durou até...

- a) 1974.
- b) 1926.
- c) 2005.

D. símbolos da República são:

- a) a bandeira azul e branca, a coroa do rei e a moeda dos réis.
- b) a bandeira verde e vermelha, o hino *A Portuguesa* e uma nova moeda, o Escudo.
- c) o hino *A Portuguesa*, a bandeira azul com estrelas e o Euro.

E. Na República, o Chefe de Estado é o...

- a) primeiro-ministro.
- b) Rei
- c) Presidente da República.

Grupo V - O Estado Novo e o 25 de Abril

Após o golpe militar de 1926, a situação económica de Portugal continuava muito difícil. O então Presidente da República, Óscar Carmona, tomou algumas medidas com o objetivo de inverter esta tendência de crise.

1. Observe o documento 7.

DOC. 7




1.1. Identifique a personagem representada no documento, bem como o regime político por ele instituído em Portugal, a partir de 1933.

2. Observe os documentos 8 e 9.

DOC.8 Estádio de Honra do Centro Desportivo Nacional do Jamor, em 1944 (atual Estádio Nacional, em Lisboa).



DOC.9 Inauguração da Ponte Salazar, em 1966 (atual Ponte 25 de Abril, em Lisboa).



2.1. Refira qual a política seguida por Salazar para criar postos de trabalho e desenvolver o País.

2.2. Identifique duas das obras públicas construídas pelo governo de Oliveira Salazar na tentativa de modernização do País.

3. Leia as frases e **selecione**, sublinhando, a resposta correta.

A. O Movimento dos Capitães preparou, na clandestinidade, o golpe militar de Abril. Este grupo era constituído por...

- a) comerciantes.
- b) políticos.
- c) militares.

B. O movimento criado pelos militares para pôr fim ao governo de Marcello Caetano chamou-se...

- a) Movimento dos Militares de Abril (MMA).
- b) Movimento das Forças Militares (MFM).
- c) Movimento das Forças Armadas (MFA).

C. No dia 25 de abril de 1974, os militares derrubaram...

- a) a ditadura do Estado Velho.
- b) a ditadura do Estado Novo.
- c) a democracia do Estado Novo.

D. O sinal que deu início à operação militar de abril de 1974 partiu...

- a) da rádio.
- b) da televisão.
- c) da internet.

E. Marcello Caetano e outros políticos do regime derrubado refugiaram-se...

- a) no Quartel do Carmo, em Lisboa.
- b) na Assembleia da República, em Lisboa.
- c) em suas casas.

F. O militar responsável pelas operações que levaram à rendição de Marcello Caetano, no Largo do Carmo, em Lisboa, foi...

- a) o general Spínola.
- b) o general Humberto Delgado.
- c) o capitão Salgueiro Maia.

G. A população, que apoiou a Revolução de Abril, começou a distribuir aos soldados...

- a) rosas.
- b) cravos.
- c) papoilas.

4. Leia as frases e sublinhe a hipótese correta para cada uma delas.

A. Após a Revolução de Abril, o poder foi entregue ...

- a) a uma Junta de Salvação Nacional.
- b) à Assembleia da República.
- c) ao comandante das Forças Armadas.

B. A Revolução de Abril devolveu de imediato aos cidadãos...

- a) o dinheiro dos impostos.
- b) as casas que lhes tinham sido retiradas pelo governo anterior.
- c) as liberdades fundamentais.

C. O regime instituído pela Revolução de Abril foi...

- a) a democracia.
- b) a ditadura.
- c) o absolutismo.

5. Localize no tempo a realização das primeiras eleições livres em Portugal.

6. Identifique o documento que os deputados então eleitos elaboraram.

FIM

Itens**Cotações**

Grupo I

1	10
2.1.....	3
3.1.....	3
4.....	4

Grupo II

1	4
2.....	4
3.....	3
4	4

Grupo III

1	4
2.....	4
3.....	3
4	4

Grupo IV

1.1	6
1.2.	3
1.3.....	6
2	10

Grupo V

1.1.....	4
2.1.	3
2.2.	4
3.....	7
4	3
5.	2
6.	2